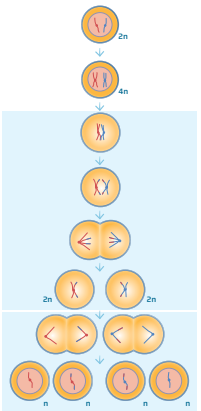






	<b>1</b>	<b>2</b>
<p>Hvilken celledelingstype viser figuren?</p> 	Mitosen	Meiosen
 <p>Hvad kaldes denne kromosomale anormalitet?</p>	Edwards syndrom	Turners syndrom
 <p>Hvilke konsekvenser kan denne køns-kromosomale anormalitet have?</p>	Reducerede mandlige køns karakterer	Øget testosteronproduktion hos mænd
 <p>Hvilke konsekvenser kan denne køns-kromosomale anormalitet have?</p>	Øget højdevækst	Øget produktion af østrogen
 <p>Hvordan påvirkes det menneske, der fødes med denne anormalitet?</p>	Øget højdevækst	Øget udskillelse af testosteron