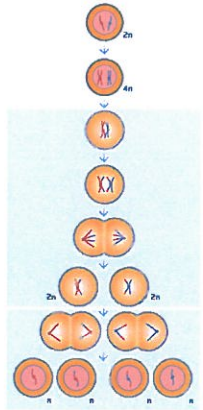






	1	2
<p>Hvilken celledelingstype viser figuren?</p> 	Mitosen	Meiosen
 <p>Hvad kaldes denne kromosomale anormalitet?</p>	Edwards syndrom	Turners syndrom
 <p>Hvilke konsekvenser kan denne kønskromosomale anormalitet have?</p>	Reducerede mandlige sekundære køns karakterer ✗	Øget testosteronproduktion hos mænd
 <p>Hvilke konsekvenser kan denne kønskromosomale anormalitet have?</p>	Øget højdevækst ✗	Øget produktion af østrogen
 <p>Hvordan påvirkes det menneske, der fødes med denne anormalitet?</p>	Øget højdevækst ✗	Øget udskillelse af testosteron

Symbol	Betydning A	X	Betydning B	X
	Transkønnet	X	Biseksuel	
	Demiboy	X	Androgyn	
	Aseksuel		Biseksuel	X
	Demigirl	X	Demiboy	
	Homoseksuel kvinde	X	Genderqueer	
	Hermafrodit	X	Demigirl	
	Homoseksuel mand	X	Androgyn	
	Mand		Kvinde	X